



GENERALITAT
VALENCIANA



CIUDAD DE LAS ARTES Y LAS CIENCIAS
VALENCIA

ACTIVITAT 1

Pots classificar els animals següents en dos grans grups? En què t'has basat?.

Pots buscar informació sobre estos animals en Internet amb l'ajuda del nom científic.

Anfós
Epinephelus marginatus

Areng
Clupea arengus

Rajada ondulada
Raja undulata

Manta gegant
Manta birostris

Morena
Muraena helena

Anguila
Anguilla anguilla

Gat
Scyliorhinus canicula

Tauró blanc
Carcharodon carcharias

Tauró tigre
Galeocerdo cuvier

Peix guitarra
Rhinobatos rhinobatos

M'he basat en:

ACTIVITAT 2

Classifica els animals següents segons que siguin ovípars o vivípars.

En quin grup inclouries els taurons?

Vaca

Balena

Cranc

Pingüí

Peix pallaso

Tortuga marina

Ésser humà

Cavallet de mar

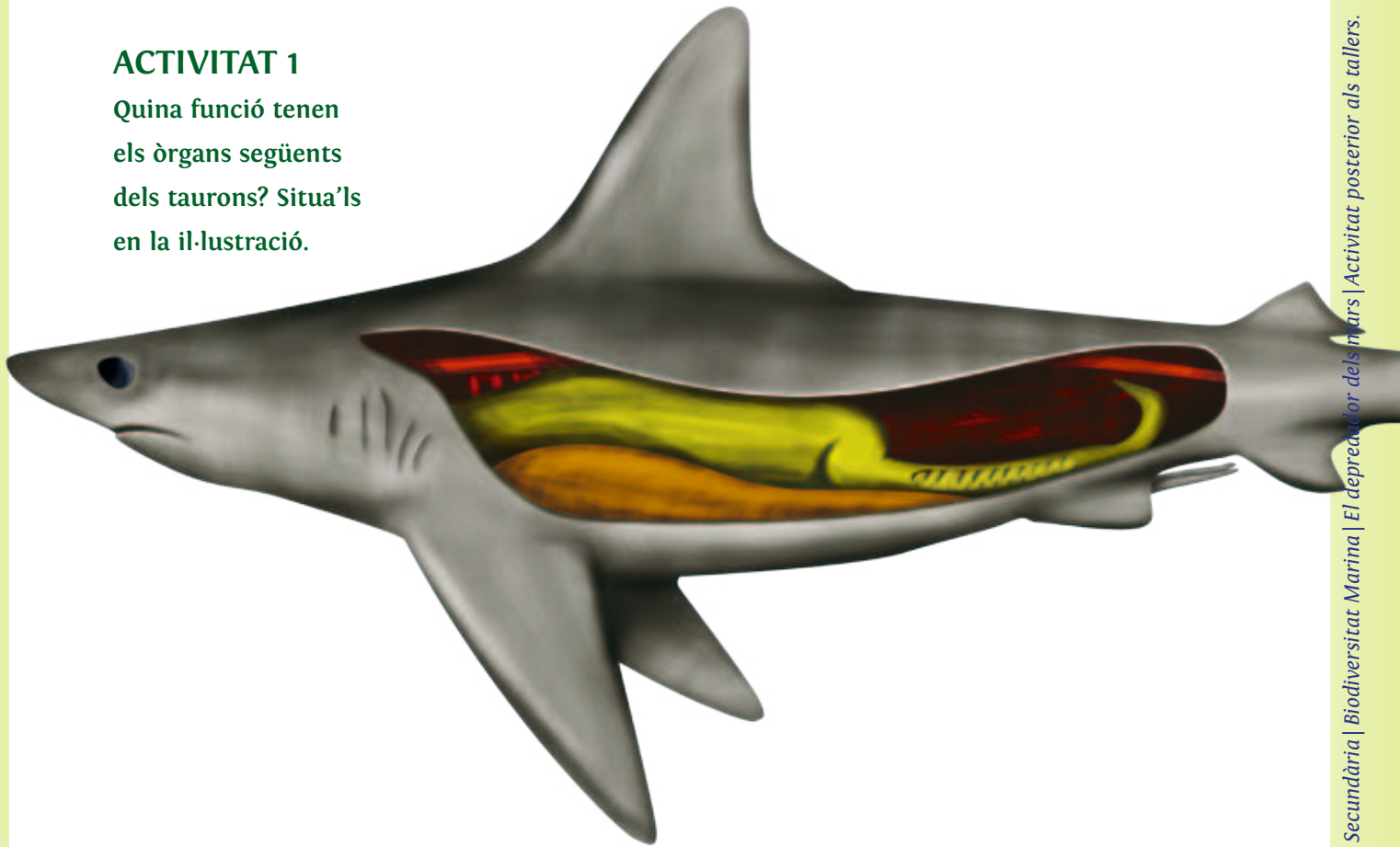
OVÍPARS

VIVÍPARS



ACTIVITAT 1

Quina funció tenen els òrgans següents dels taurons? Situa'ls en la il·lustració.



1. Vàlvula espiral

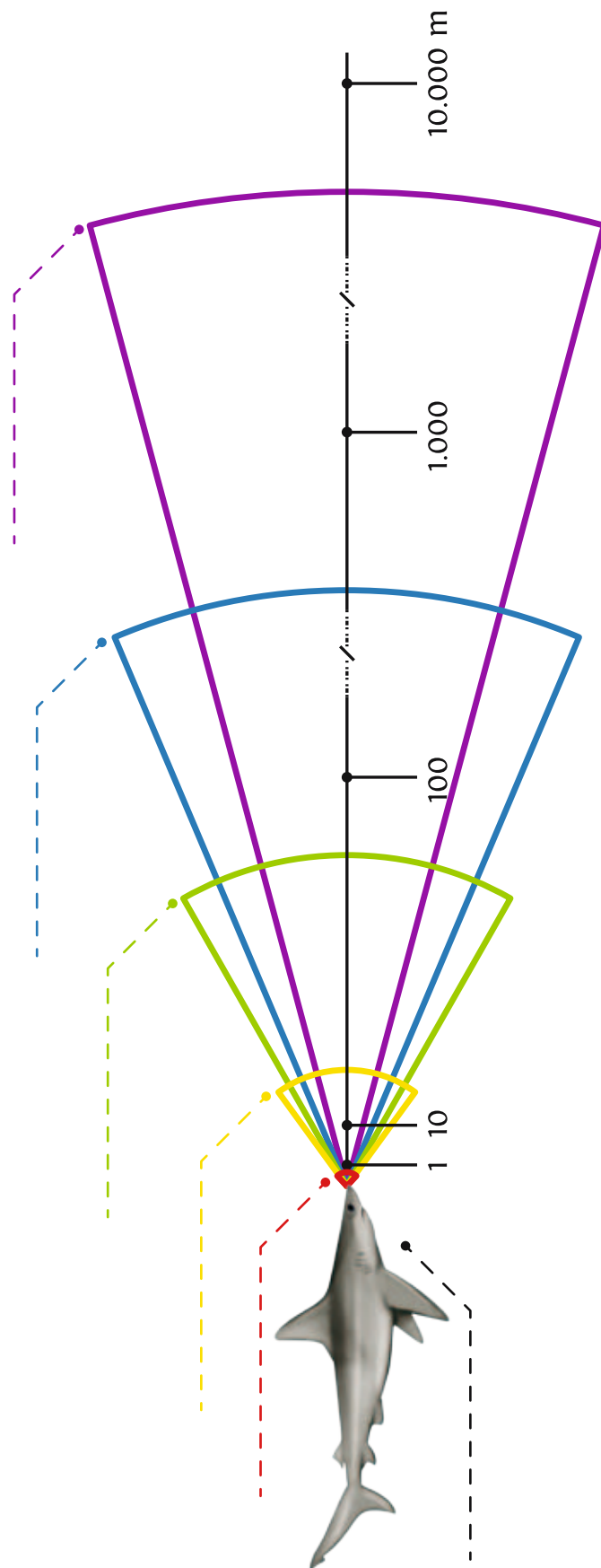
2. Pterigopodi

3. Fetge

ACTIVITAT 2


Ara que ja saps quins són els sentits que tenen els taurons, sabries ordenar-los segons la distància a què poden actuar?

1. Tacte
2. Electrorecepció
3. Visió
4. Pressió
5. Olfacte
6. Oïda



ACTIVITAT 3

Busca informació sobre el tipus de reproducció dels peixos següents:



1. Tauró blanc

2. Tauró tigre

3. Balena



4. Tintorera

5. Tauró nodrissa
